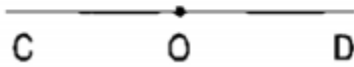


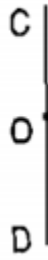
Giải bài 1 trang 51 VBT Toán lớp 4 Tập 1

Vẽ đường thẳng AB đi qua điểm O và vuông góc với đường thẳng CD

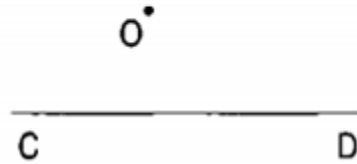
a)



b)

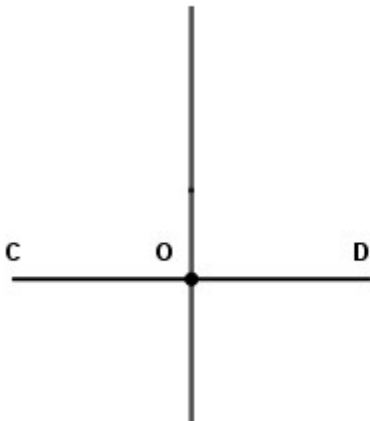


c)

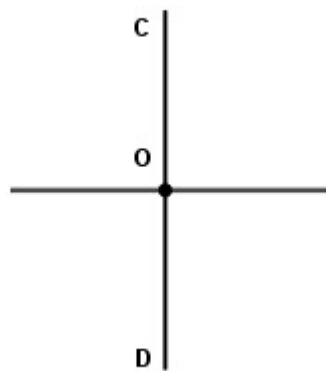


Lời giải:

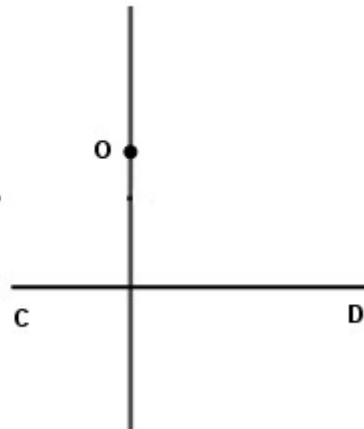
a)



b)

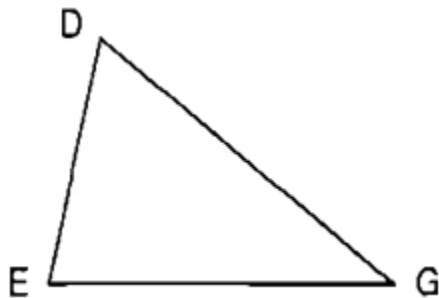


c)

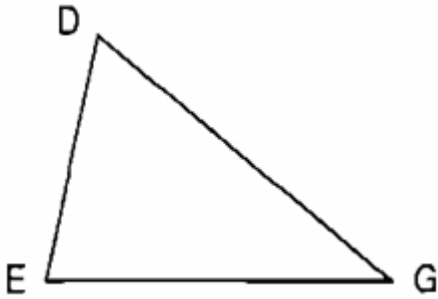


Giải bài 2 trang 51 VBT Toán lớp 4 Tập 1

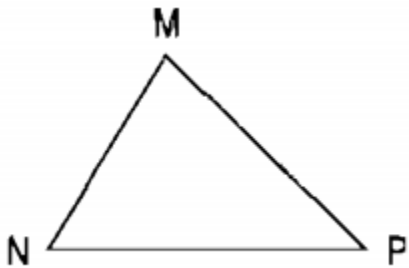
a) Đường cao AH của hình tam giác ABC; tam giác DEG



b) Đường cao EI của hình tam giác MNP



c) Đường cao PK của hình

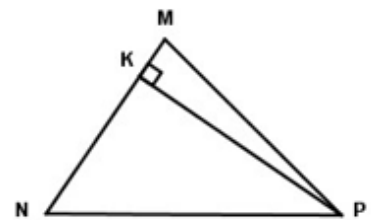
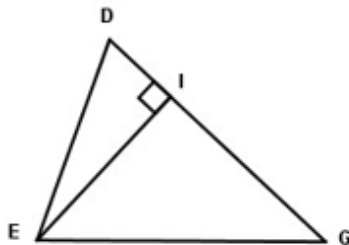
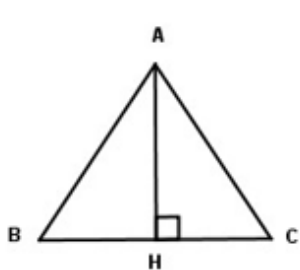


Lời giải:

a) Đường cao AH của hình tam giác ABC; tam giác DEG

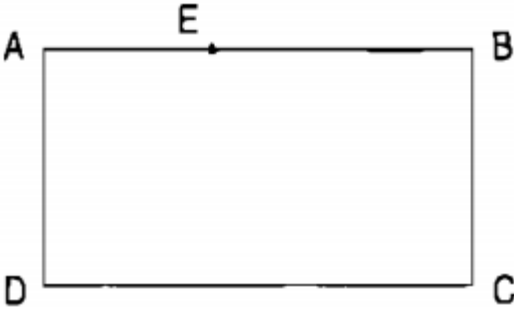
b) Đường cao EI của hình tam giác MNP

c) Đường cao PK của hình



Giải bài 3 trang 51 VBT Toán lớp 4 Tập 1

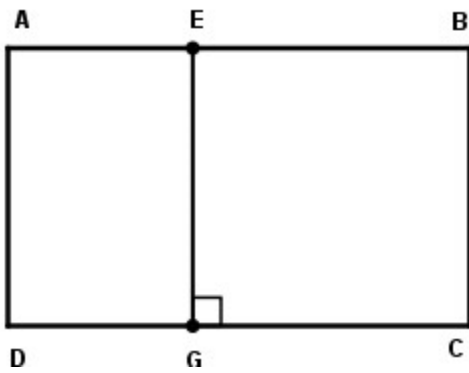
a) Hãy vẽ đường thẳng đi qua điểm E và vuông góc với cạnh DC, cắt cạnh DC, tại điểm G.



b) Các hình chữ nhật có trong hình vừa vẽ là:

Lời giải:

a) Hãy vẽ đường thẳng đi qua điểm E và vuông góc với cạnh DC, cắt cạnh DC, tại điểm G.



b) Các hình chữ nhật có trong hình vừa vẽ là: AEGD, EBCG.