


**Giải bài 1 trang 49 VBT Toán lớp 4 Tập 1**

Viết tiếp vào chỗ chấm

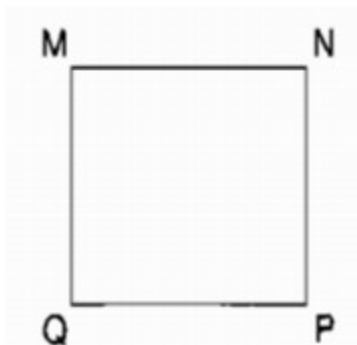
a) Các cặp cạnh song song với nhau và có trong hình chữ nhật ABCD là:

.....



b) Các cặp cạnh song song với nhau có trong hình chữ nhật MNPQ là:

.....



**Lời giải:**

a) Các cặp cạnh song song với nhau và có trong hình chữ nhật ABCD là: Cặp cạnh AB và DC, cặp cạnh AD và BC

b) Các cặp cạnh song song với nhau có trong hình chữ nhật MNPQ là: Cặp cạnh MN và QP, cặp cạnh MQ và NP.

**Giải bài 2 trang 49 VBT Toán lớp 4 Tập 1**

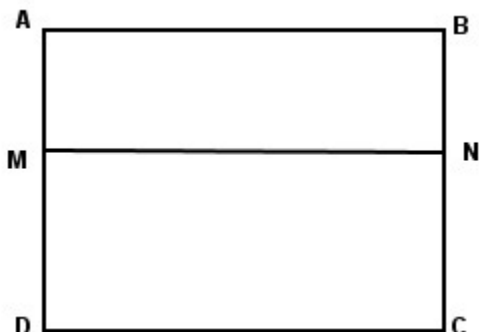
Viết tiếp vào chỗ chấm

Cho 3 hình chữ nhật ABCD, ABNM, MNCD; như hình bên.

a) Các cạnh song song với cạnh MN là: .....

b) Trong hình chữ nhật MNCD các cạnh vuông góc với cạnh DC là:

.....



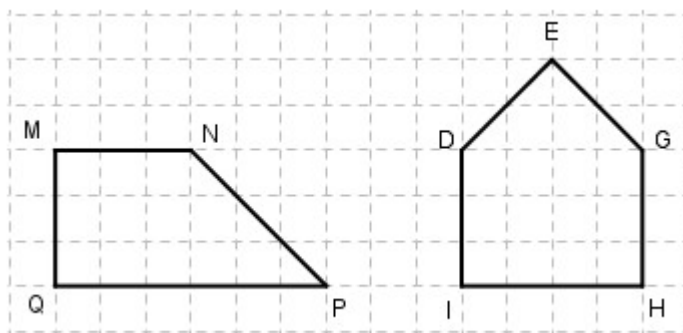
**Lời giải:**

a) Các cạnh song song với cạnh MN là: Cặp cạnh AB và DC.

b) Trong hình chữ nhật MNCD các cạnh vuông góc với cạnh DC là: Cạnh DA và CB

**Giải bài 3 trang 50 VBT Toán lớp 4 Tập 1**

Viết tiếp vào chỗ chấm



a) Các cặp cạnh song song với nhau có trong:

- Hình MNPQ là : .....

- Hình DEGHI là: .....

b) Các cặp cạnh vuông góc với nhau có trong:

- Hình MNPQ là: .....

- Hình DEGHI là: .....

**Lời giải:**

a) Các cặp cạnh song song với nhau có trong:

- Hình MNPQ là : cặp cạnh MN và QP.

- Hình DEGHI là: cặp cạnh DI và GH.

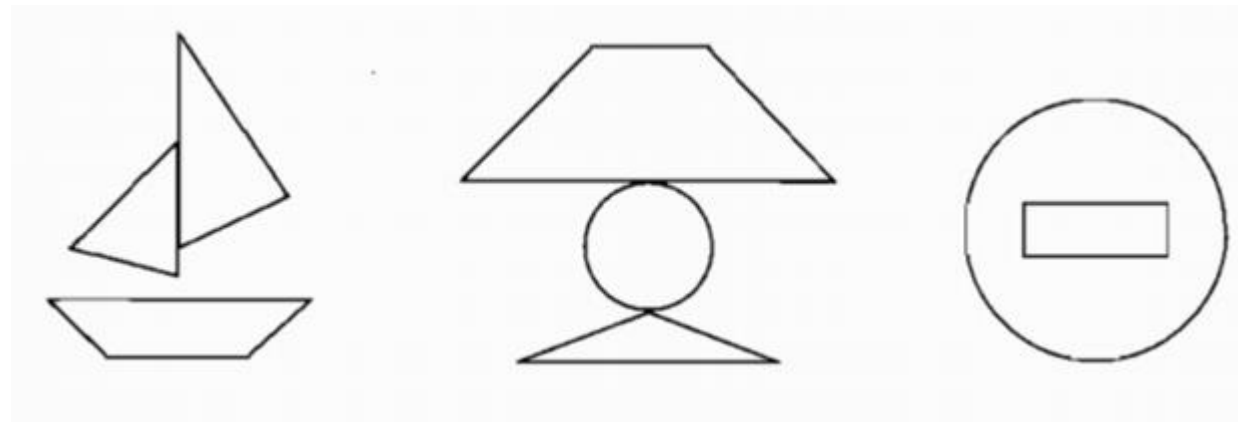
b) Các cặp cạnh vuông góc với nhau có trong:

- Hình MNPQ là: cặp cạnh vuông góc là MN và QP, cạnh QM và NP

- Hình DEGHI là: cặp cạnh ID và IH, cạnh HI và HG.

**Giải bài 4 trang 50 VBT Toán lớp 4 Tập 1:**

Tô màu hình tứ giác có các cặp cạnh song song với nhau trong mỗi hình sau:

**Lời giải:**