

Giải bài 1 trang 36 VBT Toán lớp 4 Tập 1

Đặt tính rồi tính:

$$62975 - 24138$$

$$39700 - 9216$$

$$100000 - 9898$$

Lời giải:

$$62975 - 24138 = 38837$$

$$39700 - 9216 = 30484$$

$$100000 - 9898 = 90102$$

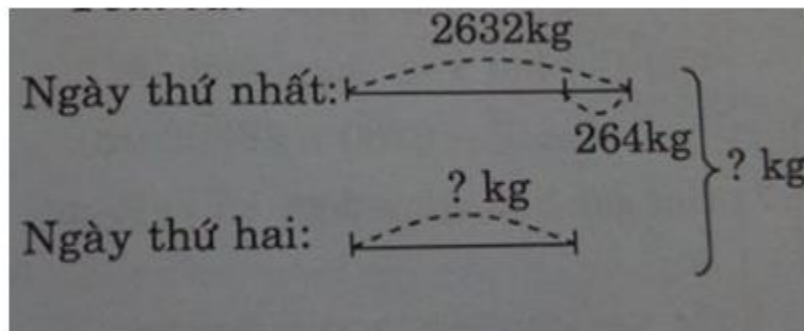
Giải bài 2 trang 36 VBT Toán lớp 4 Tập 1

Viết số thích hợp vào chỗ chấm là:

- Số lớn nhất có bốn chữ số là:

- Số bé nhất có bốn chữ số là:

- Hiệu của hai số này là:



Lời giải:

- Số lớn nhất có bốn chữ số là: 9999.

- Số bé nhất có bốn chữ số là: 1000.

- Hiệu của hai số này là: 8999.

Giải bài 3 trang 36 VBT Toán lớp 4 Tập 1

Một cửa hàng ngày thứ nhất bán được 2632kg đường, ngày thứ hai bán được ít ngày thứ nhất 264kg. Hỏi cả hai ngày bán được bao nhiêu tấn đường ?

Tóm tắt

Lời giải:

Số ki-lô-gam đường ngày thứ hai cửa hàng bán được là :

$$2632 - 264 = 2368 \text{ (kg)}$$

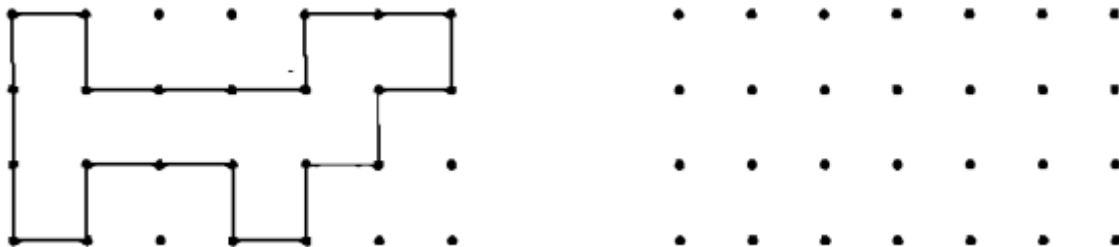
Cả hai ngày cửa hàng bán được là :

$$2632 + 2368 = 5000 \text{ (kg)}$$

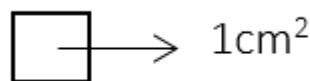
Đáp số : 5000kg

Giải bài 4 trang 36 VBT Toán lớp 4 Tập 1

a) Vẽ theo mẫu :




b) Cho biết 4 chấm tạo thành một ô vuông có diện tích 1cm² (như hình dưới đây).



Lời giải:

a)



b)

Ta có diện tích hình cần vẽ là : $1 \times 10 = 10\text{cm}^2$