

Giải bài 1 trang 37 VBT Toán lớp 4 Tập 1

Tính rồi thử lại :

<p>a) $\begin{array}{r} + \quad 38726 \\ \quad 40954 \\ \hline \end{array}$</p> <p>.....</p>	<p>b) $\begin{array}{r} + \quad 42863 \\ \quad 29127 \\ \hline \end{array}$</p> <p>.....</p>
<p>c) $\begin{array}{r} - \quad 92714 \\ \quad 25091 \\ \hline \end{array}$</p> <p>.....</p>	<p>d) $\begin{array}{r} - \quad 8300 \\ \quad 516 \\ \hline \end{array}$</p> <p>.....</p>

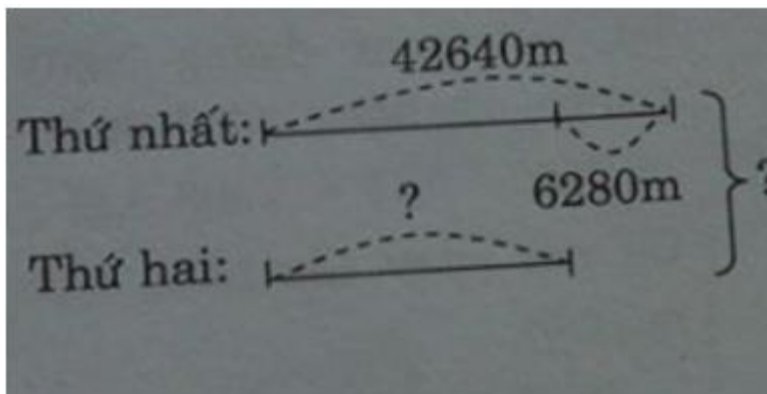
Lời giải:

<p>a)</p> $\begin{array}{r} 38726 \\ + \\ 40954 \\ \hline 79680 \end{array}$	<p>Thử lại</p> $\begin{array}{r} 79680 \\ - \\ 40954 \\ \hline 38726 \end{array}$	<p>b)</p> $\begin{array}{r} 42863 \\ + \\ 29127 \\ \hline 71990 \end{array}$	<p>Thử lại</p> $\begin{array}{r} 71990 \\ - \\ 29127 \\ \hline 42864 \end{array}$
<p>c)</p> $\begin{array}{r} 92714 \\ - \\ 25091 \\ \hline 67623 \end{array}$	<p>Thử lại</p> $\begin{array}{r} 67623 \\ + \\ 25091 \\ \hline 92714 \end{array}$	<p>d)</p> $\begin{array}{r} 8300 \\ - \\ 516 \\ \hline 7784 \end{array}$	<p>Thử lại</p> $\begin{array}{r} 7784 \\ + \\ 516 \\ \hline 8300 \end{array}$

Giải bài 2 trang 37 VBT Toán lớp 4 Tập 1

Một ô tô giờ thứ nhất chạy được 42 640m, giờ thứ hai được ít hơn giờ thứ nhất 6280m. Hỏi trong hai giờ ô tô chạy được tất cả bao nhiêu ki-lô-mét ?

Tóm tắt



Lời giải:

Giờ thứ hai ô tô chạy được là :

$$42640 - 6280 = 36360 \text{ (m)}$$

Hai giờ ô tô chạy được số ki-lô-mét là :

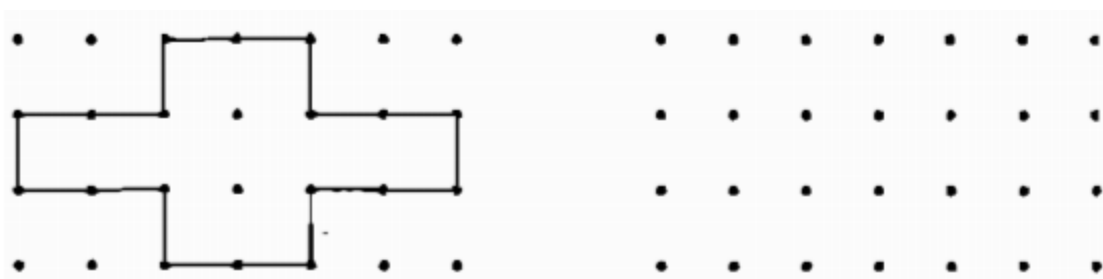
$$42640 + 36360 = 79000 \text{ (m)}$$

$$79\ 000\text{m} = 79\text{km}$$

Đáp số : 79km

Giải bài 3 trang 37 VBT Toán lớp 4 Tập 1

a) Vẽ theo mẫu:



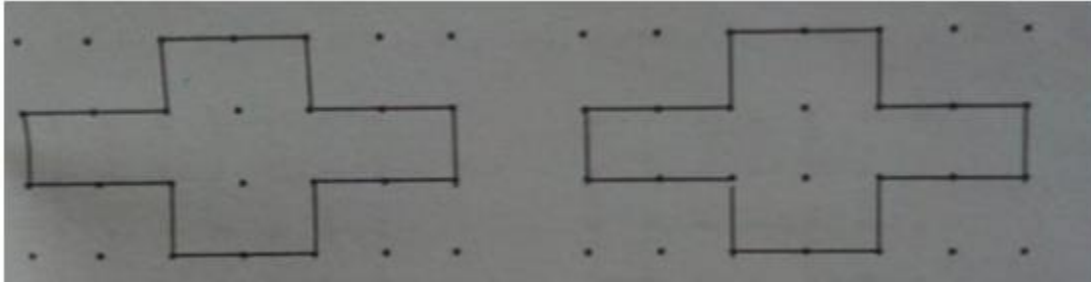
b) Cho biết bốn chấm tạo thành một ô vuông có diện tích 1 cm²(như hình dưới đây):



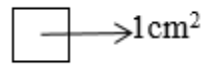
Ta có diện tích của hình mẫu trong câu b là:

Lời giải:

a)



b)



Ta có diện tích của hình mẫu trong câu a là: 10cm^2