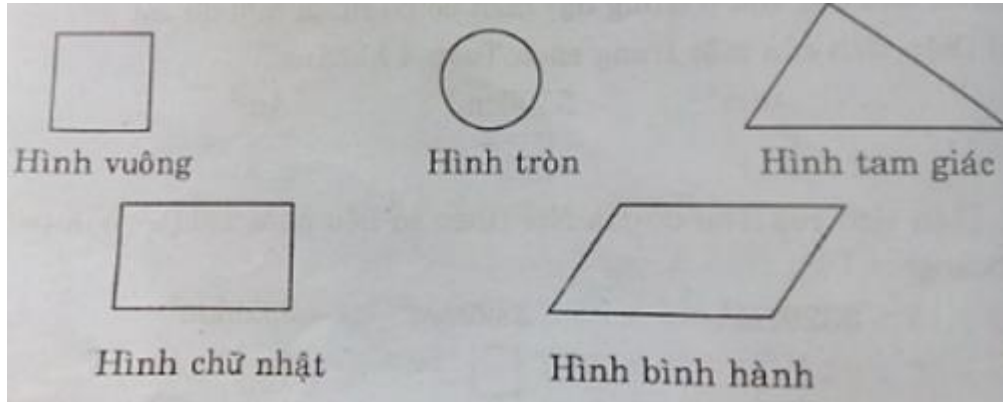


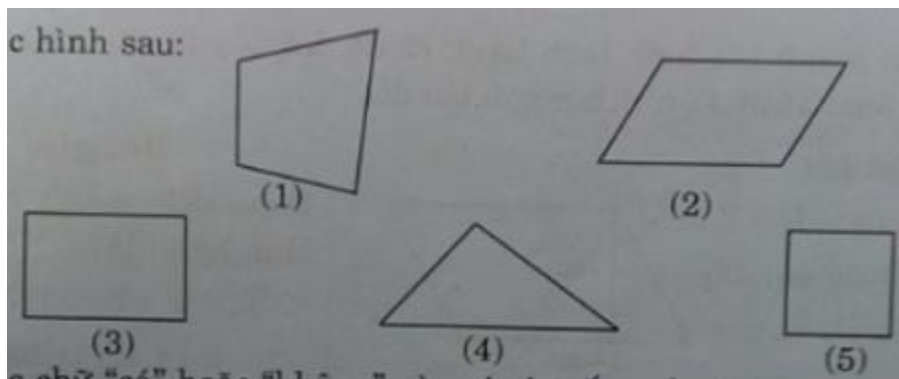
Giải bài 1 trang 11 VBT Toán lớp 4 Tập 2

Viết tiếp mỗi hình vào chỗ chấm

Lời giải:

**Giải bài 2 trang 11 VBT Toán lớp 4 Tập 2**

Cho các hình sau:



Viết các chữ “có” hoặc “không” vào các ô trống của bảng sau:

Đặc điểm (1) (2) (3) (4) (5)

Có 4 cạnh và 4 góc

Có hai cặp cạnh đối diện song song

Có hai cặp cạnh đối diện bằng nhau

Có 4 góc vuông và 4 cạnh bằng nhau

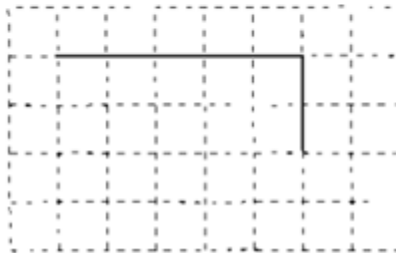
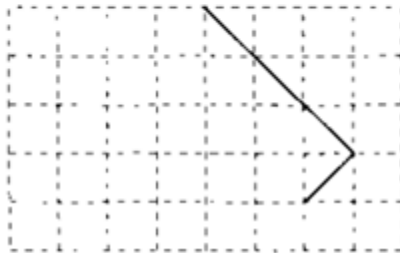
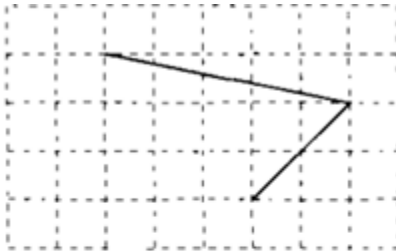
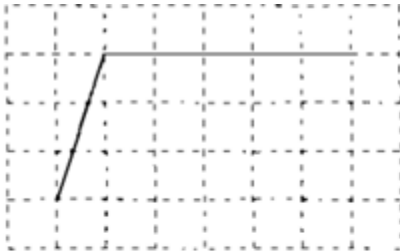
Có ít nhất 1 góc vuông

Lời giải:

Đặc điểm	(1)	(2)	(3)	(4)	(5)
Có 4 cạnh và 4 góc	Có	Có	Có		Có
Có hai cặp cạnh đối diện song song	Không	Có	Có	Không	Có
Có hai cặp cạnh đối diện bằng nhau		Có	Có	Không	Có
Có 4 góc vuông và 4 cạnh bằng nhau	Không	Không	Không	Không	Có
Có ít nhất 1 góc vuông	Không	Không	Có	Không	Có

Giải bài 3 trang 12 VBT Toán lớp 4 Tập 2

Vẽ thêm hai đoạn thẳng để được một hình bình hành hoặc một hình chữ nhật



Lời giải:

Ta có hình vẽ sau:

