

Giải bài 1 trang 26 VBT Toán lớp 4 Tập 1

Dựa vào biểu đồ dưới đây hãy viết chữ hoặc số thích hợp vào chỗ chấm :

Các con của 5 gia đình

Gia đình cô Mai	
Gia đình cô Lan	
Gia đình cô Hồng	
Gia đình cô Đào	
Gia đình cô Cúc	

- a) Có Gia đình chỉ có 1 con, đó là gia đình:
- b) Gia đìnhcó 2 con gái và gia đìnhcó 2 con trai.
- c) Gia đình cô Hồng có con trai và con gái.
- d) Những gia đình có 1 con gái là :
- e) Cả 5 gia đình có người con trong đó có con trai và con gái.








Lời giải:

- a) Có 2 Gia đình chỉ có 1 con, đó là gia đình: cô Lan và cô Đào.
- b) Gia đình cô Mai có 2 con gái và gia đình cô Cúc có 2 con trai.
- c) Gia đình cô Hồng có 1 con trai và 1 con gái.
- d) Những gia đình có 1 con gái là : cô Hồng và cô Đào.
- e) Cả 5 gia đình có 8 người con trong đó có 4 con trai và bốn con gái.

Giải bài 2 trang 26 VBT Toán lớp 4 Tập 1

Dựa vào biểu đồ dưới đây hãy viết Đ (đúng) hoặc S (sai) vào ô trống:

Các môn thể thao khối bốn tham gia

4A				
4B				
4C				

- a) Cả 3 lớp tham gia 7 môn thể thao.
- b) Lớp 4A tham gia 3 môn thể thao: bơi, nhảy dây và cờ vua.
- c) Môn nhảy dây có hai lớp tham gia lớp 4A và lớp 4B.
- d) Lớp 4A và lớp 4C tham gia tất cả 5 môn thể thao.

Lời giải:

- a) Cả 3 lớp tham gia 7 môn thể thao. S
- b) Lớp 4A tham gia 3 môn thể thao: bơi, nhảy dây và cờ vua. Đ
- c) Môn nhảy dây có hai lớp tham gia lớp 4A và lớp 4B. Đ
- d) Lớp 4A và lớp 4C tham gia tất cả 5 môn thể thao. S