

Giải bài 1 trang 5 VBT Toán lớp 4 Tập 1

Tính:


$$\begin{array}{r} 65321 \\ + 26385 \\ \hline \end{array}$$

$$\begin{array}{r} 82100 \\ - 3001 \\ \hline \end{array}$$

$$\begin{array}{r} 2623 \\ \times 4 \\ \hline \end{array}$$

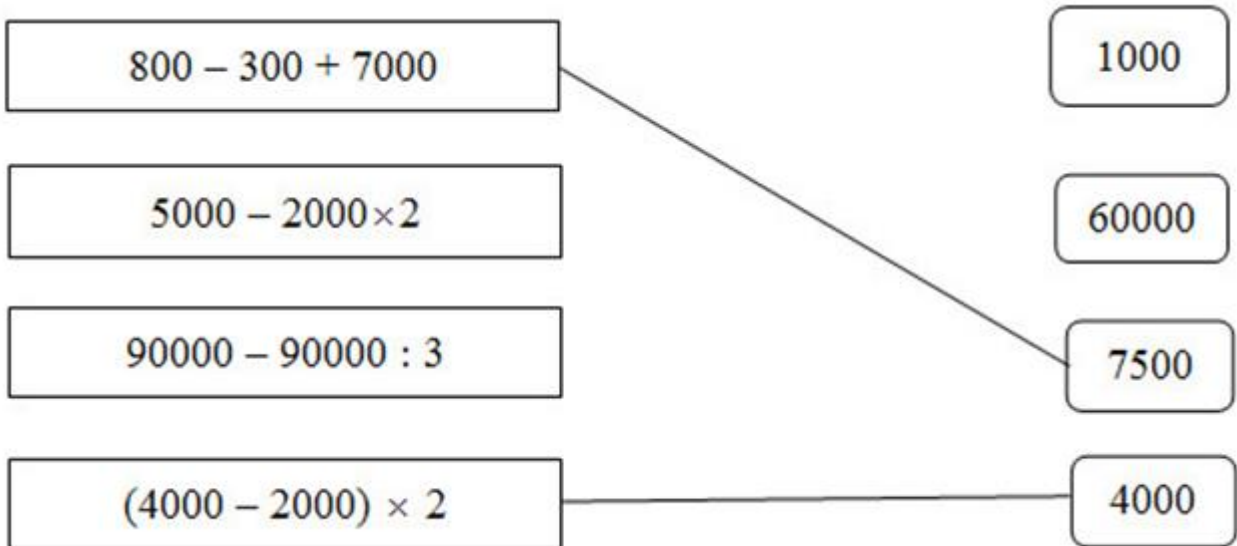
$$\begin{array}{r} 1585 \overline{) 5} \\ \hline \end{array}$$

Lời giải:

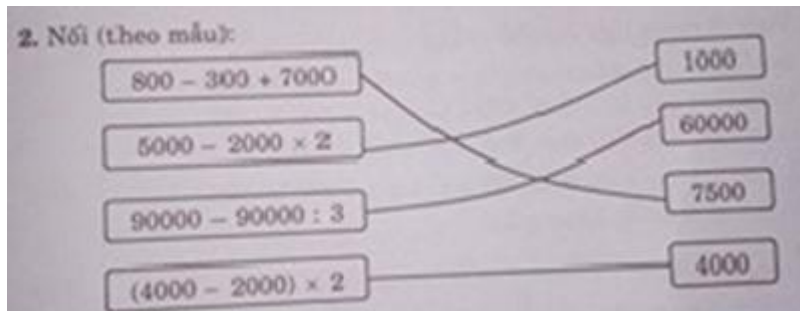


Giải bài 2 trang 5 VBT Toán lớp 4 Tập 1

Nối (theo mẫu):



Lời giải:



Giải bài 3 trang 5 VBT Toán lớp 4 Tập 1

Tìm x, biết:

a) $x + 527 = 1892$ b) $x - 631 = 361$

c) $x \times 5 = 1085$ d) $x : 5 = 187$

Lời giải:

a) $x + 527 = 1892$

$$x = 1892 - 527$$

$$x = 1365$$

b) $x - 631 = 361$

$$x = 361 + 631$$

$$x = 992$$

c) $x \times 5 = 1085$

$$x = 1085 : 5$$

$$x = 217$$

d) $x : 5 = 187$

$$x = 187 \times 5$$

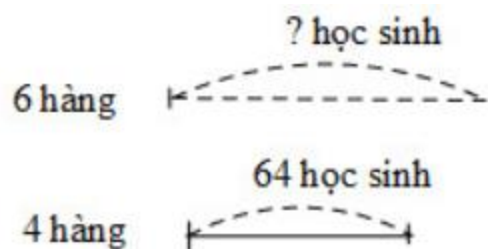
$$x = 935$$

Giải bài 4 trang 5 VBT Toán lớp 4 Tập 1

Trong buổi đồng diễn thể dục, các bạn học sinh xếp thành các hàng như nhau. Biết 4 hàng có 64 bạn. Hỏi 6 hàng có bao nhiêu bạn?

Lời giải:

Tóm tắt



Bài giải

Số học sinh có trong một hàng là:

$$64 : 4 = 16 \text{ (học sinh)}$$

Số học sinh có trong 6 hàng là:

$$16 \times 6 = 96 \text{ (học sinh)}$$

Đáp số : 96 học sinh