

BÀI 1: DÂN SỐ

Bài 1 trang 5 sách bài tập Địa Lý 7

Dựa vào sơ đồ dưới đây, em hãy nêu tác dụng của việc điều tra dân số.



Lời giải:

Điều tra dân số biết được số dân, số người trong từng độ tuổi, tổng số nam nữ và nghề nghiệp của dân cư của một địa phương, một nước hay trên toàn thế giới.

Bài 2 trang 6 sách bài tập Địa Lý 7

Căn cứ vào bảng số liệu dưới đây:

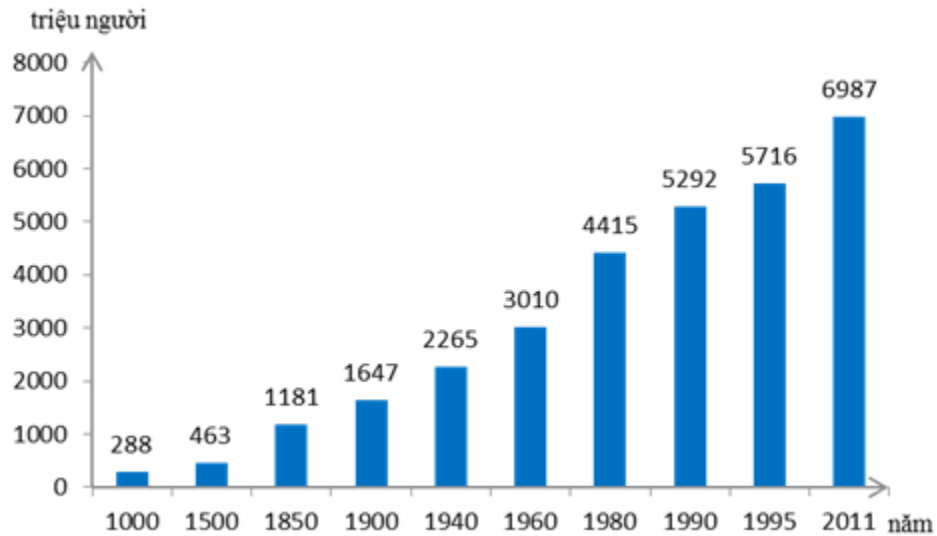
Năm	Số dân thế giới (triệu người)	Năm	Số dân thế giới (triệu người)
1000	288	1960	3010
1500	463	1980	4415
1850	1181	1990	5292
1900	1647	1995	5716
1940	2265	2011	6987

a) Hãy vẽ biểu đồ hình cột, biểu diễn sự phát triển của dân số thế giới từ năm 1000 đến năm 2011.

b) Qua biểu đồ đã vẽ, rút ra những nhận xét bằng cách điền vào chỗ chấm (...) trong các câu sau:

Lời giải:

a)



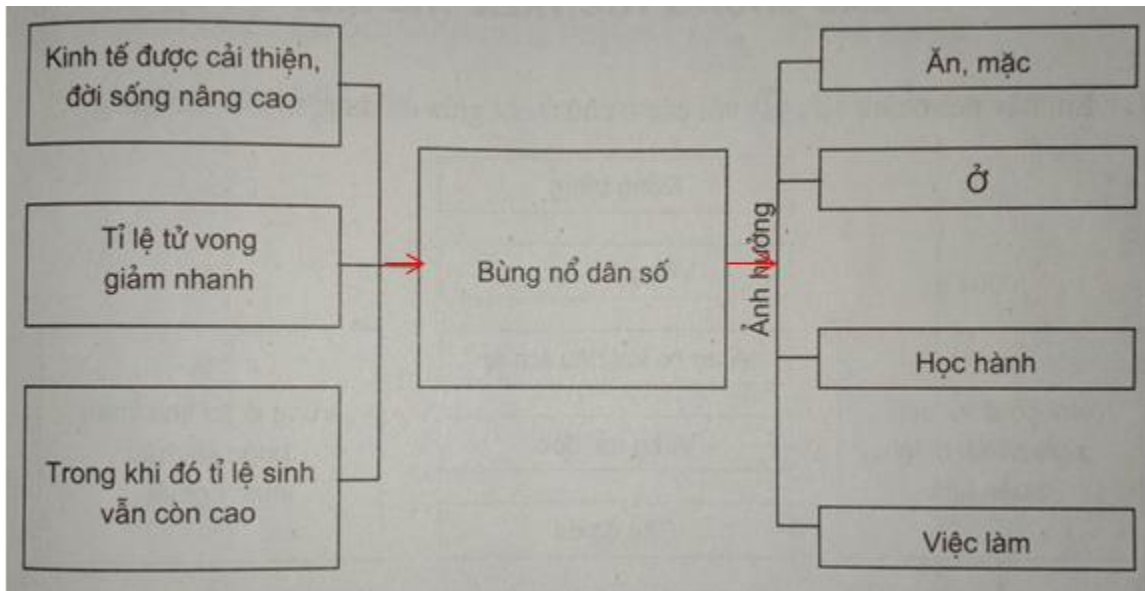
b)

- Từ năm 1000 đến năm 2011 số dân thế giới ngày càng nhanh.
- Trong khoảng thời gian 1011 năm, số dân thế giới tăng là 6699 triệu người.
- Trung bình một năm tăng 6,6 triệu người (tăng 24,3%/năm).

Bài 3 trang 7 sách bài tập Địa Lý 7

Hoàn thành sơ đồ dưới đây để nêu rõ nguyên nhân và hậu quả của sự bùng nổ dân số:

Lời giải:

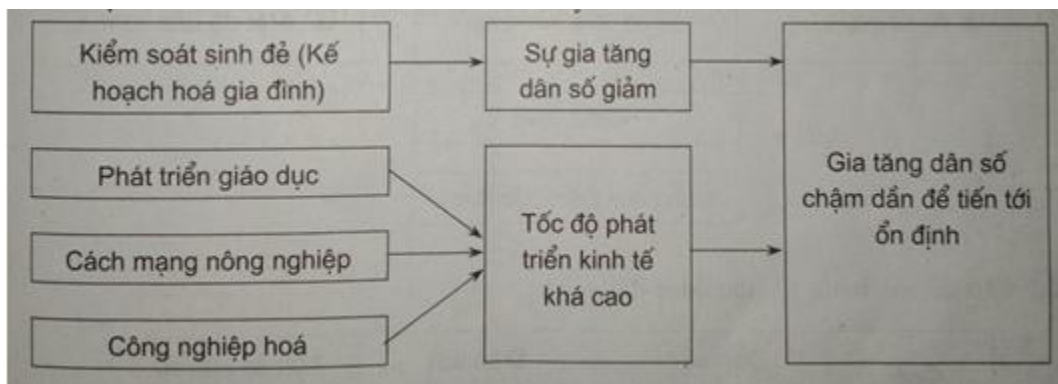


- Nguyên nhân: dân số tăng nhanh, tỉ lệ sinh cao.

- Hậu quả: dân số tăng nhanh vượt quá khả năng giải quyết các vấn đề ăn, mặc, ở, học hành, việc làm... đã trở thành gánh nặng đối với các nước có kinh tế chậm phát triển. Đẩy nhanh tốc độ khai thác tài nguyên thiên nhiên làm suy thoái môi trường, diện tích rừng ngày càng bị thu hẹp, đất bạc màu khoáng sản cạn kiệt, thiếu nước sạch,...

Bài 4 trang 7 sách bài tập Địa Lý 7

Dựa vào vốn hiểu biết và sơ đồ dưới đây:



Hãy nêu những biện pháp để giảm sự gia tăng dân số và ngăn chặn sự bùng nổ dân số.

Lời giải:

- Kiểm soát sinh đẻ (kế hoạch hóa gia đình) để giảm sự gia tăng dân số.

- Thực hiện phát triển giáo dục, cách mạng nông nghiệp và công nghiệp hóa để tăng cao tốc độ phát triển kinh tế, từ đó làm chậm quá trình gia tăng dân số dân tiến tới ổn định.