

Nội dung bài viết

1. [Đề thi Toán học kì 1 lớp 3 năm 2021 - Đề số 1](#)
 1. [Đáp án đề Toán lớp 3 học kì 1 năm 2021 - Đề số 1](#)
2. [Đề thi học kì 1 Toán lớp 3 năm 2021 - Đề số 2](#)
 1. [Đáp án đề thi học kì 1 môn Toán lớp 3 năm 2021 - Đề số 1](#)
3. [Đề kiểm tra Toán lớp 3 học kì 1 năm 2021 - Đề số 3](#)
 1. [Đáp án đề thi môn Toán lớp 3 học kì 1 năm 2021 - Đề số 3](#)

Đề thi Toán học kì 1 lớp 3 năm 2021 - Đề số 1

Phần I: Trắc nghiệm

Khoanh tròn vào chữ cái trước ý trả lời đúng:

Câu 1.

Kết quả của phép tính: 305×3 là:

- A. 905
- B. 945
- C. 915
- D. 935

Câu 2.

Kết quả của phép tính: $366 : 6$ là:

- A. 65
- B. 61
- C. 63
- D. 62

Câu 3.

$7\text{m } 5\text{cm} = \dots\dots\dots\text{cm}$. Số thích hợp điền vào chỗ trống là:

- A. 70

B. 12

C. 705

D. 750

Câu 4.

Một phép chia có số dư lớn nhất là 8. Số chia là:

A. 7

B. 9

C. 12

D. 18

Phần II: Tự luận

Câu 5. Một hình vuông có cạnh bằng 5cm. Tính chu vi hình vuông

Câu 6.

$$220 - 10 \times 2$$

Câu 7. Tìm x

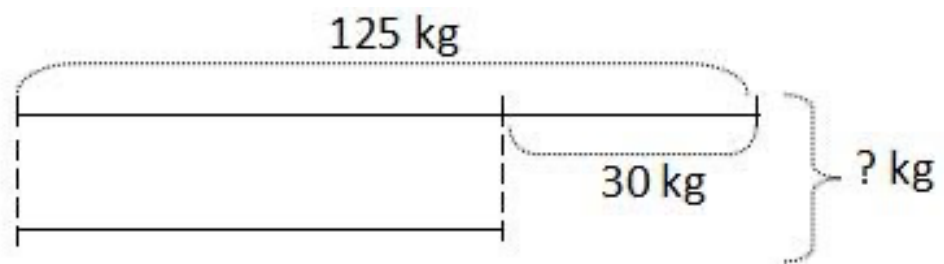
a) $X : 5 = 115$

b) $8 \times X = 648$

Câu 8. Tóm tắt:

Con lợn to:

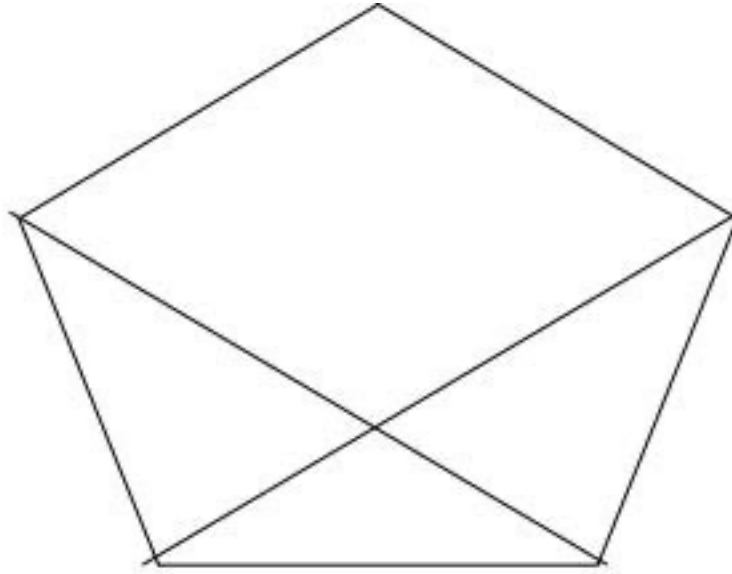
Con lợn bé:



Giải bài Toán theo tóm tắt.

Câu 9. Một thùng đựng 25 lít nước mắm. Người ta đã lấy ra $\frac{1}{5}$ số lít nước mắm. Hỏi trong thùng còn lại bao nhiêu lít nước mắm?

Câu 10. Hình bên có:



-hình tam giác.

-hình tứ giác.

Đáp án đề Toán lớp 3 học kì 1 năm 2021 - Đề số 1

Câu 1. C. 915 (1 đ)

Câu 2. B. 61 (1 đ)

Câu 3. C. 705 (1 đ)

Câu 4. B. 9 1 đ)

Câu 5.

Bài giải:

Chu vi hình vuông là: (0,25đ)

$5 \times 4 = 20$ (cm) (0,5đ)

Đáp số: 20 cm (0,2 5đ)

Câu 6.

Tính giá trị biểu thức (1 đ)

$$220 - 10 \times 2 = 220 - 20 \text{ (0,5đ)}$$

$$= 200 \text{ (0,5đ)}$$

Câu 7. Tìm x: Mỗi phép tính đúng được 0,5đ (Mỗi lượt tính đúng được 0,25đ)

a) $X : 5 = 115$

b) $8 \times X = 648$

Câu 8. Mỗi câu trả lời và phép tính đúng được 0,5đ. Thiếu đáp số trừ 0,25đ.

Bài giải:

Con lợn bé cân nặng là: $125 - 30 = 95$ (kg)

Cả hai con lợn cân nặng là : $125 + 95 = 220$ (kg)

Đáp số: 220 kg

Câu 9. Mỗi câu trả lời và phép tính đúng được 0,5đ. Thiếu đáp số trừ 0,25đ.

Bài giải:

Số lít nước mắm đã lấy ra là: $25 : 5 = 5$ (l)

Số lít nước mắm còn lại là : $25 - 5 = 20$ (l)

Đáp số: 20 l nước mắm

Câu 10. Hình bên có:

- 5 hình tam giác. (0,5 đ)

- 3 hình tứ giác. (0,5 đ)

.....

Đề thi học kì 1 Toán lớp 3 năm 2021 - Đề số 2**Phần I. Trắc nghiệm khách quan (3 điểm)**

Khoanh vào chữ đặt trước câu trả lời đúng

Câu 1. Số 525 đọc là:

- A. Năm trăm hai lăm
- B. Lăm trăm hai mươi năm
- C. Lăm hai mươi lăm
- D. Năm trăm hai mươi lăm

Câu 2. Trong phép chia có dư, số dư lớn nhất là 8, số chia là số nào?

- A. 9
- B. 10
- C. 7
- D. 1

Câu 3. Giá trị của biểu thức $216 + 30 : 5$ là bao nhiêu?

- A. 246
- B. 211
- C. 221
- D. 222

Câu 4. $9\text{hm} = \dots\dots\dots \text{m}$ Số đi ãn vào chỗ chấm là:

- A. 90
- B. 900
- C. 9000

D. 900

Câu 5. Một cái sân hình vuông có cạnh là 8m. Hỏi chu vi cái sân đó là bao nhiêu mét?

A. 64 m

B. 32 m

C. 16 m

D. 24 m

Câu 6. Hình bên có bao nhiêu góc không vuông ?



A. 4

B. 3

C. 2

D. 1

Phần II. Tự luận (7 điểm)

Câu 1. (1,5 điểm) Đặt tính rồi tính:

$$587 + 209$$

$$742 : 7$$

Câu 2. (1,5 điểm) Tìm x :

a) $76 + x = 257$

b) $672 : x = 6$

Câu 3. (2 điểm) Buổi sáng cửa hàng bán được 456 lít dầu, buổi chiều bán được bằng buổi sáng. Hỏi cả hai buổi cửa hàng bán được bao nhiêu lít dầu?

Câu 4. (2 điểm) Lớp 3A có 34 học sinh, cần chia thành các nhóm, mỗi nhóm có không quá 6 học sinh. Hỏi lớp 3A có ít nhất bao nhiêu nhóm?

Đáp án đề thi học kì 1 môn Toán lớp 3 năm 2021 - Đề số 2

Phần I. Trắc nghiệm khách quan (3 điểm)

Mỗi câu đúng được 0,5 điểm:

Câu 1 **Câu 2** **Câu 3** **Câu 4** **Câu 5** **Câu 6**

D A D D B C

Phần II. Tự luận (7 điểm)

Câu 1. (1,5 điểm)

Đặt tính và tính đúng mỗi phần được (0,75đ)

$$587 + 209 = 796$$

$$742 : 7 = 106$$

Câu 2. (1,5 điểm)

Mỗi phần đúng được (0,75đ)

a) $76 + x = 257$

$$x = 257 - 76$$

$$x = 181$$

b) $672 : x = 6$

$$x = 672 : 6$$

$$x = 112$$

Câu 3. (2 điểm)

Số dầu bán buổi chiều là

$$456 : 4 = 114 \text{ (lít)}$$

Số dầu bán cả 2 buổi là

$$456 + 114 = 570 \text{ (lít)}$$

Đáp số: 570 lít dầu

Câu 4. (2 điểm)

Ta có: $34 : 6 = 5$ (dư 4)

Số nhóm có đủ 6 học sinh là 5 nhóm, còn 4 học sinh nữa thì thêm 1 nhóm.

Vậy lớp 3A có ít nhất số nhóm là:

$$5 + 1 = 6 \text{ (nhóm)}$$

Đáp số: 6 nhóm

Đề kiểm tra Toán lớp 3 học kì 1 năm 2021 - Đề số 3

Phần I. Trắc nghiệm khách quan (3 điểm)

Khoanh vào chữ đặt trước câu trả lời đúng

Câu 1. Chữ số 4 trong số 846 có giá trị là bao nhiêu ?

A . 4

B. 40

C. 400

D. 840

Câu 2. Giá trị của biểu thức $(215 + 31) : 6$ là bao nhiêu?

A. 41

B. 40

C. 31

D. 14

Câu 3. Trên 1 đĩa cân ta đặt 3 quả cân loại 500g; 200g; 100g. Trên đĩa kia người ta đặt 4 quả táo thì cân thăng bằng. Hỏi 4 quả táo đó nặng bao nhiêu gam ?

A. 500g

B. 800g

C. 600g

D. 700g.

Câu 4. $9m\ 8cm = \dots\ cm$. Số thích hợp cần điền vào chỗ chấm là số nào?

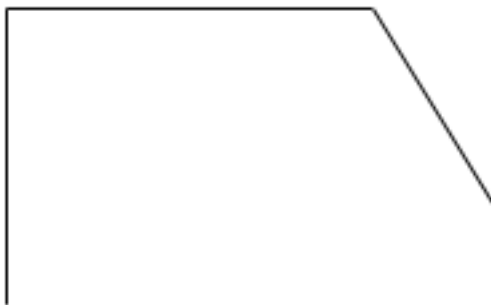
A. 98

B. 980

C. 908

D. 9080

Câu 5. Hình bên có bao nhiêu góc vuông ?



A. 1

B. 2

C. 3

D. 4

Câu 6. Tuổi mẹ là 36 tuổi, Tuổi con bằng $\frac{1}{4}$ tuổi mẹ. Hỏi con bao nhiêu tuổi?

A. 6 tuổi

B. 7 tuổi

C. 8 tuổi

D. 9 tuổi

Phần II. Tự luận (7 điểm)

Câu 1. (2 điểm) Đặt tính rồi tính:

$$487 + 204$$

$$660 - 251$$

$$124 \times 3$$

$$847 : 7$$

Câu 2. (2 điểm) Tìm x :

a) $x + 86 = 144$

b) $570 : x = 5$

Câu 3. (3 điểm) Bao thứ Nhất đựng 104 kg gạo, bao thứ Hai đựng được gấp 5 lần bao thứ Nhất. Hỏi cả hai bao đựng được bao nhiêu ki - lô - gam gạo?

Đáp án đề thi môn Toán lớp 3 học kì 1 năm 2021 - Đề số 3

Phần I. Trắc nghiệm khách quan (3 điểm)

Mỗi câu đúng được 0,5 điểm:

Câu 1 **Câu 2** **Câu 3** **Câu 4** **Câu 5** **Câu 6**

B A B C C D

Phần II. Tự luận (7 điểm)

Câu 1. (2 điểm) Đặt tính rồi tính:

$$\begin{array}{r} + 487 \\ + 204 \\ \hline 691 \end{array}$$

$$\begin{array}{r} 660 \\ - 251 \\ \hline 409 \end{array}$$

$$\begin{array}{r} \times 124 \\ \times 3 \\ \hline 372 \end{array}$$

$$\begin{array}{r} 847 \quad | \quad 7 \\ 14 \quad | \quad \hline 121 \\ 7 \end{array}$$

Câu 2. (2 điểm) Tìm x :

a) $x + 86 = 144$

$$x = 144 - 86$$

$$x = 58$$

b) $570 : x = 5$

$$x = 570 : 5$$

$$x = 114$$

Câu 3. (3 điểm)

Bao thứ hai đựng số kg gạo là

$$104 \times 5 = 520 \text{ (kg)}$$

Cả hai bao đựng được số kg gạo là

$$520 + 104 = 624 \text{ (kg)}$$

Đáp số: 624 kg gạo.