

Giải vở bài tập Toán lớp 5 tập 2 trang 9 - Bài 1

Vẽ hình tròn có bán kính:

a. $r = 2\text{cm}$

b. $r = 1,5\text{cm}$

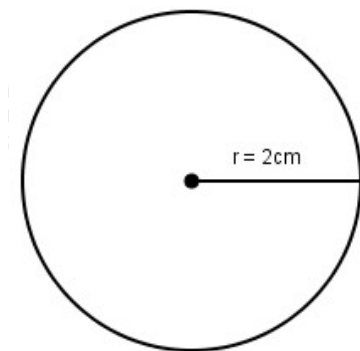
Phương pháp giải:

Cách vẽ:

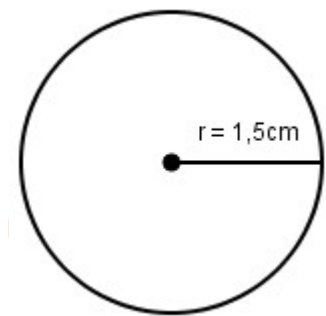
- Chấm một điểm, chẳng hạn O (hoặc I), làm tâm.
- Mở compa sao cho mũi kim cách đầu chì một khoảng 2cm (hoặc 1,5cm).
- Đặt mũi kim vào điểm O (hoặc I), áp đầu chì sát vào mặt giấy quay đúng một vòng. Ta được hình tròn tâm O (hoặc I) có bán kính 2cm (hoặc 1,5cm).

Đáp án

a. $r = 2\text{cm}$



b. $r = 1,5\text{cm}$

**Giải vở bài tập Toán lớp 5 tập 2 trang 10 - Bài 2**

Vẽ hình tròn có đường kính:

a. $d = 4\text{cm}$

b. $d = 5\text{cm}$

Phương pháp giải:

+) Tính bán kính hình tròn:

Câu a) bán kính hình tròn là:

$$4 : 2 = 2 \text{ (cm)}$$

Câu b) bán kính hình tròn là:

$$5 : 2 = 2,5 \text{ (cm)}$$

+) Cách vẽ

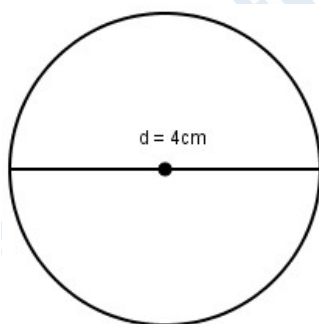
- Chấm một điểm, chẳng hạn O (hoặc I), làm tâm.

- Mở compa sao cho mũi kim cách đầu chì một khoảng 2cm (hoặc 2,5cm).

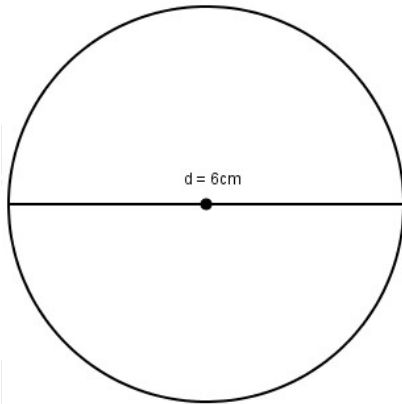
- Đặt mũi kim vào điểm O (hoặc I), áp đầu chì sát vào mặt giấy quay đúng một vòng. Ta được hình tròn tâm O (hoặc I) có bán kính 2cm (hoặc 2,5cm).

Đáp án

a. $d = 4\text{cm}$

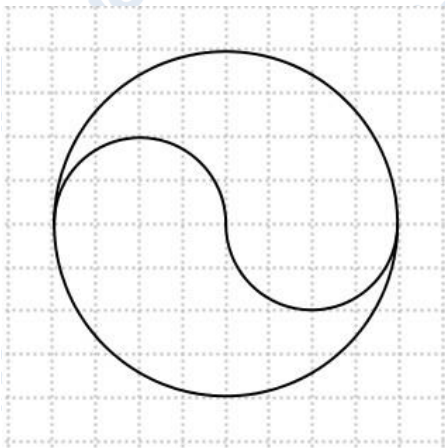


b. $d = 6\text{cm}$



Giải vở bài tập Toán lớp 5 tập 2 trang 10 - Bài 3

Vẽ hình theo mẫu rồi tô màu:



Phương pháp giải:

Quan sát hình vẽ rồi vẽ lại hình đã cho, sau đó tô màu vào hình vừa vẽ.

Đáp án

