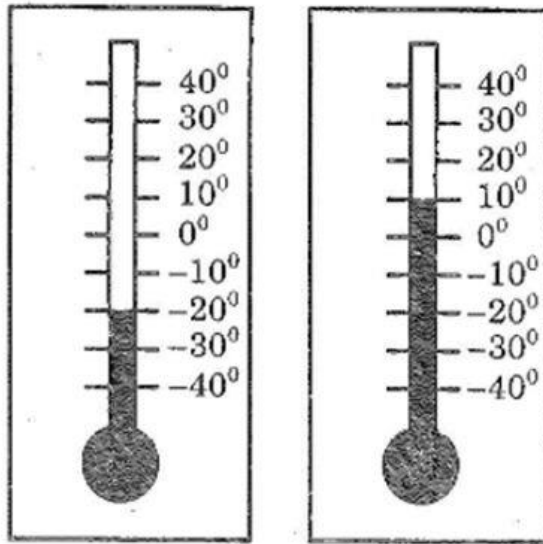


Hướng dẫn giải sách bài tập Toán lớp 6 tập 1 bài 1: Làm quen với số âm kèm công thức và lời giải chi tiết cho từng bài tập giúp các em học sinh ôn tập các dạng bài xoay quanh chương 2: Số nguyên. Sau đây mời các em tham khảo lời giải chi tiết

1. Giải câu 1 bài 1 SBT Toán lớp 6 tập 1

Hãy:

- Viết và đọc nhiệt độ ở các nhiệt kế trong hình dưới
- Trong các nhiệt kế a và b, nhiệt độ nào cao hơn?



Lời giải:

- Nhiệt kế a chỉ -20°C . Đọc là âm hai mươi độ C hoặc trừ hai mươi độ C
Nhiệt kế b chỉ 10°C . Đọc là mười độ C
- Nhiệt độ chỉ trong nhiệt kế b cao hơn và cao hơn 30°C

2. Giải câu 2 bài 1 Toán lớp 6 tập 1 SBT

Đọc độ cao của các điểm sau:

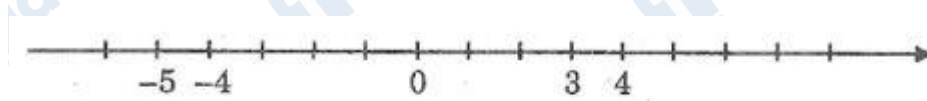
- Đỉnh cao của đỉnh núi Phú Sĩ (Nhật Bản) là 3776m
- Độ cao của biển Chết là -392m

Lời giải:

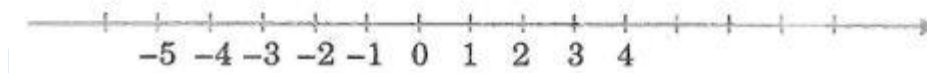
- Độ cao của đỉnh núi Phú Sĩ là 3776m
- Độ cao của biển chết là âm 392m

3. Giải câu 3 bài 1 Toán lớp 6 SBT tập 1

Ghi các số $-1; -2; -3; 1; 2$ vào trục số ở hình sau

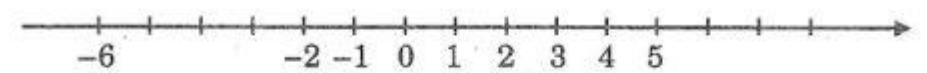


Lời giải:

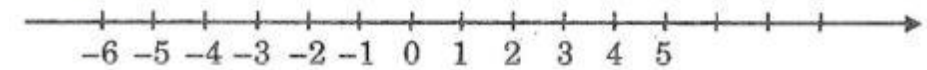


4. Giải câu 4 bài 1 SBT Toán 6 tập 1

Ghi các số nguyên âm nằm giữa các số -6 và -2 vào trục ở hình sau



Lời giải:



5. Giải câu 5 bài 1 Toán 6 tập 1 SBT

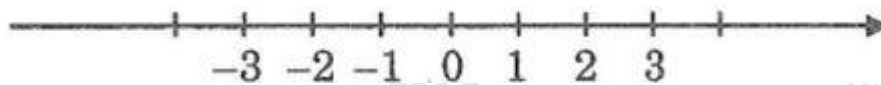
Vẽ trục số và cho biết: Những điểm nằm cách điểm O hai đơn vị, không đơn vị và hai cặp điểm cách đều điểm O

Lời giải:

Các điểm $2; -2$ cách đều điểm O hai đơn vị

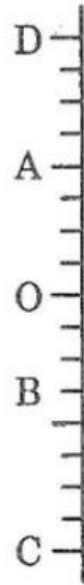
Điểm 0 cách điểm o không đơn vị

Hai cặp điểm cách đều điểm O là: -2 và $2; -3$ và 3



6. Giải câu 6 bài 1 Toán 6 SBT tập 1

Trên hình bên, điểm A nằm cách điểm O bốn đơn vị về phía trên, còn điểm B nằm cách điểm O ba đơn vị về phía dưới. các điểm C và D nằm cách điểm O như thế nào?



Lời giải:

Điểm C nằm cách điểm O là tám đơn vị ở phía dưới

Điểm D nằm cách điểm O là tám đơn vị ở phía trên.

7. Giải câu 7 bài 1 SBT Toán lớp 6 tập 1

Trên hình sau, hãy ghi các điểm K, L, M, N thoả mãn: K cách O sáu đơn vị về phía bên trái; L cách O tám đơn vị về phía bên phải; M cách O hai đơn vị về phía bên phải; N cách O ba đơn vị về phía bên trái.



Lời giải:



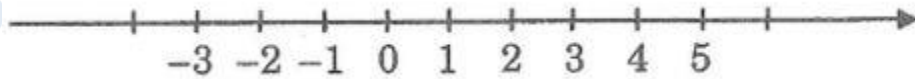
8. Giải câu 8 bài 1 Toán 6 tập 1 SBT

Vẽ trục số và cho biết:

a, Những điểm nằm cách điểm 2 ba đơn vị

b, Những điểm nằm giữa điểm -3 và 4

Lời giải:



a, Điểm -1 và 5 nằm cách điểm 2 ba đơn vị

b, Điểm nằm giữa -3 và 4 là -2; -1; 0; 1; 2; 3