

**Đề thi giữa học kì 2 Lớp 3 Môn Toán 2021 (Đề 1)****I. Trắc nghiệm:****1. Khoanh vào chữ đặt trước câu trả lời đúng:**

a) Số gồm có: 9 nghìn, 1 chục và 6 đơn vị là số:

A. 9016

B. 9106

C. 9116

D. 916


b) Số lớn nhất có 4 chữ số mà chữ số ở mỗi hàng đều khác nhau là:

A. 9999

B. 9012

C. 9876

D. 9123

**2. Điền kết quả thích hợp vào:****3. Khoanh vào kết quả đúng của  $8\text{m } 2\text{dm} = \dots\dots\dots \text{dm}$ ?**

A. 82 dm.

B. 802 dm.

C. 820 dm.

D. 10 dm.

**Phần 2: Tự luận**

**1. Đặt tính rồi tính:**

805 + 6478

.....  
.....  
.....

1317 x 5

.....  
.....  
.....

3204 : 3

.....  
.....  
.....

**2. Tìm x:**

7547 - x = 729

.....  
.....

x - 4020 = 111

.....  
.....

**3. Có 40 lít dầu đựng đều trong 5 can. Hỏi 4 can dầu có bao nhiêu lít dầu?**

Bài giải

.....

.....  
.....  
.....

**Đáp án đề kiểm tra giữa học kì 2 lớp 3 môn Toán - Đề 1****I. Trắc nghiệm****Câu 1.**

a, A. 9016

b, C. 9876

**Câu 2.**  $328 + 6 \times 6$ 

Số cần điền lần lượt vào ô trống: 334, 2004.

**Câu 3:**

B. 802 dm.

**II. Tự luận****Câu 1:**

$$805 + 6478 = 7283$$

$$1317 \times 5 = 6585$$

$$3204 : 3 = 1068$$

**Câu 2:**

$$7547 - x = 729$$

$$x = 7547 - 729$$

$$x = 6818$$

$$x - 4020 = 111$$

$$x = 111 + 4020$$

$$x = 4131$$

**Câu 3:**

1 can dầu có số lít dầu là:

$$40 : 5 = 8 \text{ lít}$$

4 can dầu có số lít dầu là:

$$4 \times 8 = 32 \text{ lít}$$

Đáp số 32 lít.

**Đề thi giữa kì 2 Lớp 3 Môn Toán năm 2021 (Đề 2)****I. Trắc nghiệm:****1. Khoanh vào chữ (A, B, C, D) trước câu trả lời đúng:**

a) Số gồm 6 nghìn và 5 đơn vị viết là:

A. 605

B. 6050

C. 6005

D. 6500

b) Số liền sau của số 7890 là:

A. 7889

B. 8890

C. 7900

D. 7891

c)  $17\text{m } 3\text{cm} = \dots \text{Cm}$

A. 137

B. 173

C. 1730

D. 1703

**II. Tự Luận:**


**2. Đúng ghi Đ, sai ghi S vào ô**

a) 23 nhân 5 nhân 2 có kết quả là 203

b) 
$$\begin{array}{r|l} 2007 & 9 \\ 20 & 223 \\ \hline & 27 \end{array} \quad \square$$

c) 
$$\begin{array}{r|l} 2008 & 4 \\ 008 & 52 \\ \hline & 0 \end{array} \quad \square$$

**3. Điền số thích hợp vào chỗ trống:**



**4. Đặt tính rồi tính:**

2476 x 6

.....  
 .....  
 .....

5607: 7

.....  
 .....  
 .....

**5. Tìm x:**

$$x \times 5 = 3015$$

.....

.....

$$x + 2536 = 4675$$

.....

.....

**6.** Một phân xưởng phải may 2430 bộ quần áo. Phân xưởng đã may được số bộ quần áo đó. Hỏi phân xưởng còn phải may bao nhiêu bộ quần áo nữa?

Bài giải

.....

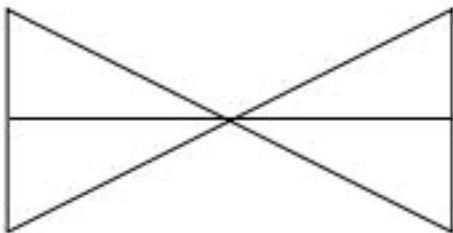
.....

.....

.....

**7. Điền số thích hợp vào chỗ chấm:**

Hình vẽ bên có:



.....hình tam giác

.....góc vuông.

**Đáp án đề thi toán giữa kì 2 Lớp 3 - Đề 2**

**Câu 1:**

a. C. 6005

b. D. 7891

c. D. 1703

**Câu 2:**

a, Sai

b, Đúng

c, Sai

**Câu 3:**

$$325 + 5 \times 5$$

Đáp án cần điền lần lượt vào ô là: 330, 1650.

**Câu 4:**

$$2476 \times 6 = 14856$$

$$5607 : 7 = 801$$

**Câu 6:**

Một phân xưởng phải may 2430 bộ quần áo. Phân xưởng đã may được  $\frac{1}{6}$  số bộ quần áo đó. Hỏi phân xưởng còn phải may bao nhiêu bộ quần áo nữa?

Phân xưởng đã may được tất cả số bộ quần áo là:

$$2430 : 6 = 405 \text{ bộ}$$

Phân xưởng còn phải may số bộ quần áo còn lại là:

$$2430 - 405 = 2025 \text{ bộ}$$

Đáp án: 2025 bộ quần áo

**Câu 7:**

- 6 hình tam giác
- 4 góc vuông.

**Đề thi toán Lớp 3 giữa học kì 2 năm 2021 (Đề số 3)****I. Trắc nghiệm:****1. Khoanh vào chữ đặt trước kết quả đúng:**

a) Số gồm: chín nghìn, chín chục được viết là:

A. 9990

B. 9900

C. 9090

D. 9009

b) Bốn số nào được viết theo thứ tự từ lớn đến bé?

A. 5872; 5728; 5278; 5287

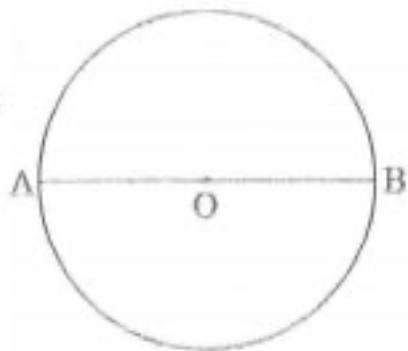
B. 5782; 5827; 5287; 5278

C. 7852; 7582; 7285; 7258

D. 7258; 7285; 7582; 7852

**II. Tự luận:****2. Cho hình tròn tâm O**

Hãy viết tên đoạn thẳng vào chỗ trống (...)



- Bán kính.....

- Đường kính.....



- O là trung điểm của .....

**3. a) Đặt tính rồi tính:**

7368 – 5359

.....

.....

.....

1405 x 6

.....

.....

.....

**b) Tìm x:**

2009 : x = 7

.....

.....

.....

**4. Một mảnh đất hình chữ nhật có chiều dài là 224m, chiều rộng bằng 1/4 chiều dài. Tính chu vi mảnh đất đó.**

Bài giải

.....

.....

.....

**5. Trong một năm:**

a) Những tháng nào có 30 ngày?

b) Những tháng nào có 31 ngày?

.....

.....

.....

**Đáp án đề thi giữa học kì 2 môn toán Lớp 3 - Đề 3**

**1.**

a, C. 9090

b, C. 7852; 7582; 7285; 7258

**2.**

- Bán kính OA, OB

- Đường kính AB

- O là trung điểm của AB

**3.**

a,  $7368 - 5359 = 2009$

$1405 \times 6 = 8430$

b,  $2009 : x = 7$

$x = 2009 : 7$

$x = 287$

**5.**

a) Những tháng nào có 30 ngày là: tháng 4, 6, 9, 11

b) Những tháng nào có 31 ngày: tháng 1, 3, 5, 7, 8, 10, 12