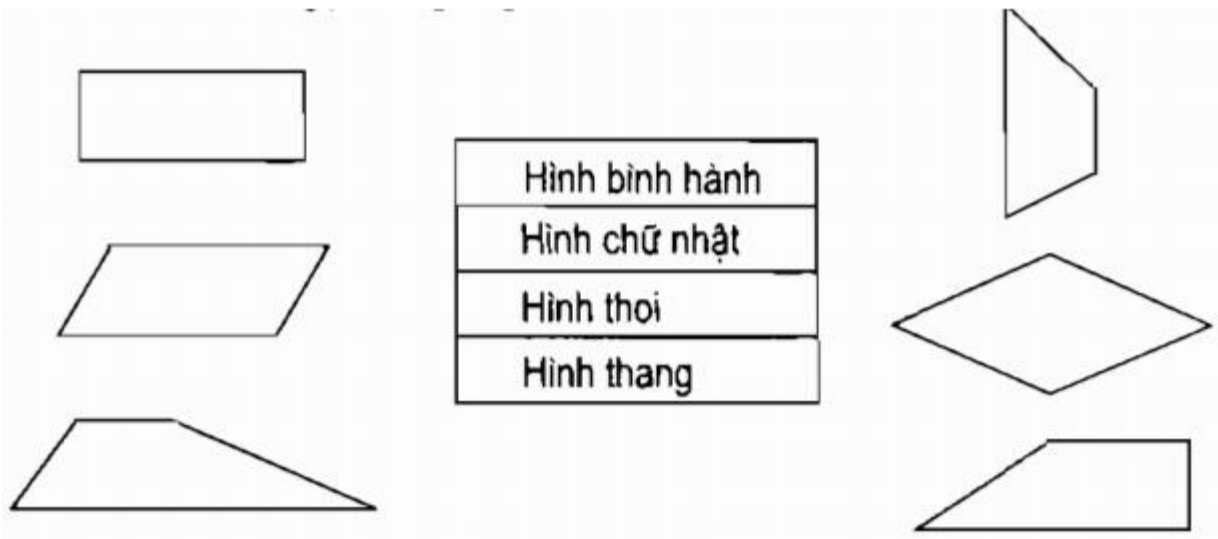


**Bài 90: Hình thang**

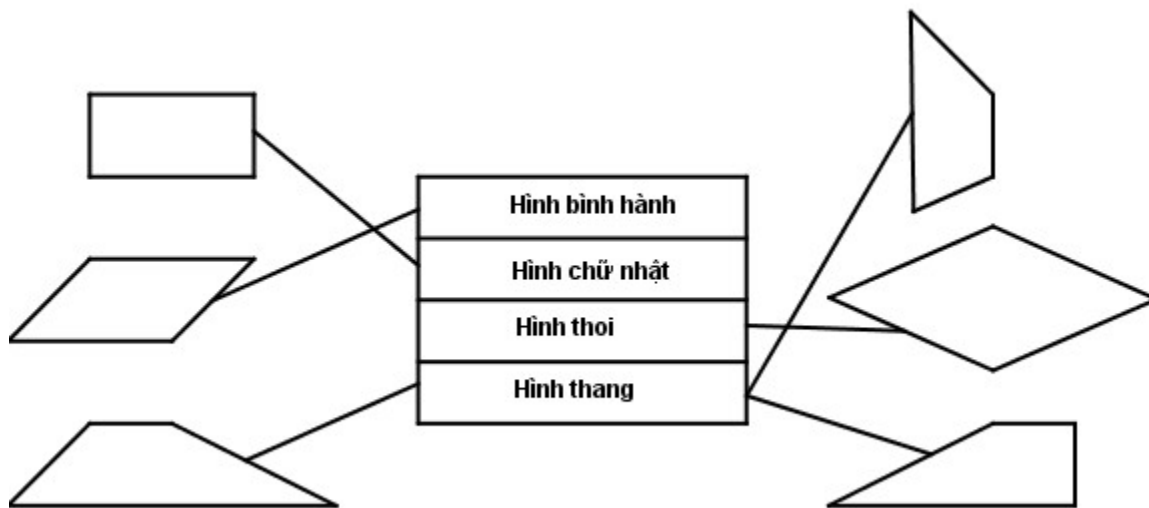
Hướng dẫn giải từ bài 1 đến bài 4 trang 3, 4 VBT Toán 5 bao gồm lời giải chi tiết, phương pháp giải mỗi bài rõ ràng giúp các em hiểu sâu lời giải, các kiến thức lý thuyết ứng dụng.

**Bài 1 trang 3 VBT Toán 5 Tập 2:**

Nói mỗi hình với tên gọi tương ứng:

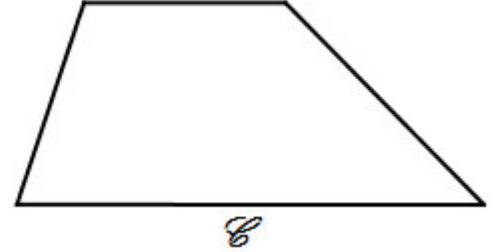
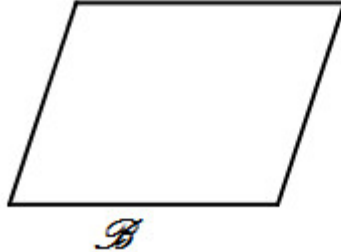
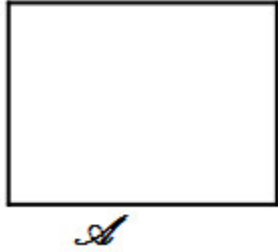


Hướng dẫn giải chi tiết:



**Bài 2 trang 3 VBT Toán 5 Tập 2:**

Cho các hình sau :



Hãy viết “có” hoặc “không” thích hợp vào ô trống (theo mẫu) :

Đặc điểm	A	B	C
Có bốn cạnh và bốn góc			
Có hai cạnh đối diện song song			
Chỉ có một cặp cạnh đối diện song song			
Có bốn góc vuông			

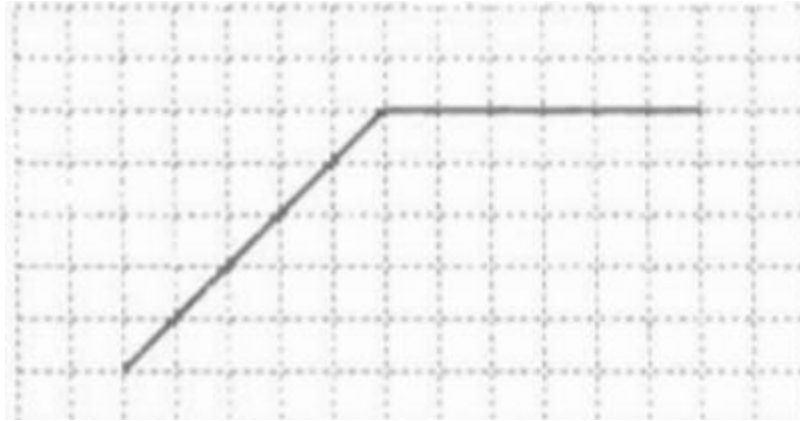
**Hướng dẫn giải chi tiết:**

Đặc điểm	A	B	C
Có bốn cạnh và bốn góc	có	có	có
Có hai cạnh đối diện song song	có	có	không
Chỉ có một cặp cạnh đối diện song song	không	không	có
Có bốn góc vuông	có	không	không


**Bài 3 trang 4 VBT Toán 5 Tập 2:**

Vẽ thêm hai đoạn thẳng vào mỗi hình sau để được:

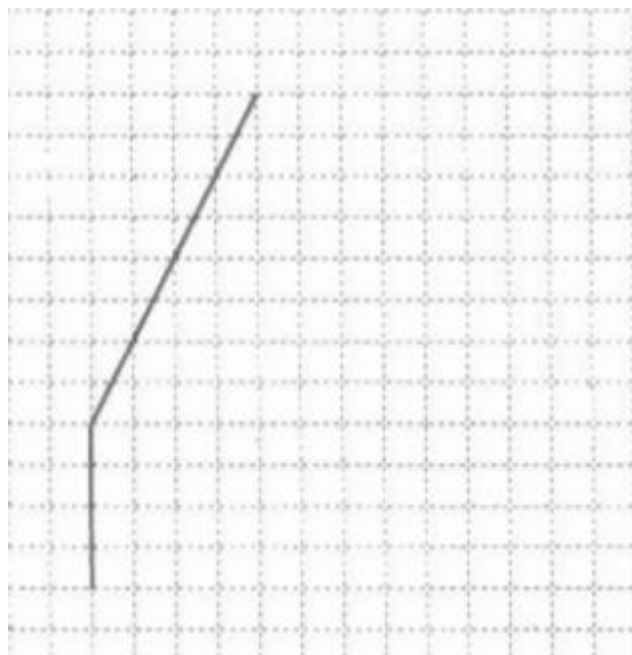
a) Hình thang




b) Hình chữ nhật



c) Hình thang



d) Hình chữ nhật

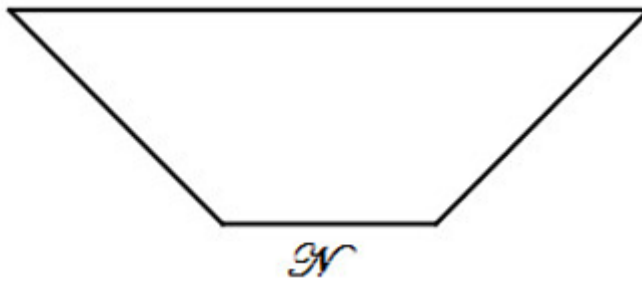
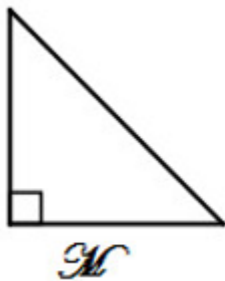


Hướng dẫn giải chi tiết:

Học sinh tự vẽ

Bài 4 trang 4 VBT Toán 5 Tập 2:

Cho các hình:



Số hình M cần thiết để ghép được hình N là :

- A. 3
- B. 4
- C. 5
- D. 6

**Hướng dẫn giải chi tiết:**

Đáp án đúng là : B. 4