

## BÀI: SO SÁNH SỐ BÉ BẰNG MẤY LẦN SỐ LỚN

### Bài 1 (trang 61 SGK Toán 3):

Viết vào ô trống theo mẫu:

Số lớn	Số bé	Số lớn gấp mấy lần số bé ?	Số bé bằng một phần mấy số lớn ?
8	2	4	$\frac{1}{4}$
6	3		
10	2		

### Phương pháp giải:

- Muốn tìm số lớn gấp mấy lần số bé ta lấy số lớn chia cho số bé.
- Từ đó tìm được số bé bằng một phần mấy số lớn.

### Hướng dẫn giải chi tiết:

Số lớn	Số bé	Số lớn gấp mấy lần số bé ?	Số bé bằng một phần mấy số lớn ?
8	2	4	$\frac{1}{4}$
6	3	2	$\frac{1}{2}$
10	2	5	$\frac{1}{5}$

**Bài 2 (trang 61 SGK Toán 3):**

Ngăn trên có 6 quyển sách, ngăn dưới có 24 quyển sách. Hỏi số sách ở ngăn trên bằng một phần mấy số sách ở ngăn dưới?

**Phương pháp giải:**

*Tóm tắt*

Ngăn trên : 6 quyển sách

Ngăn dưới : 24 quyển sách

Số sách của ngăn trên bằng một phần mấy số sách của ngăn dưới ?

Muốn tìm lời giải ta lấy số sách của ngăn dưới chia cho số sách của ngăn trên.

Trả lời câu hỏi của bài toán.

**Hướng dẫn giải chi tiết:**

Số sách ngăn dưới gấp số sách ngăn trên số lần là:

$$24 : 6 = 4 \text{ (lần)}$$


Vậy số sách ngăn trên bằng  $\frac{1}{4}$  số sách ngăn dưới


**Đáp số:  $\frac{1}{4}$**


**Bài 3 (trang 61 SGK Toán 3):**

Số ô vuông màu đen bằng một phần mấy số ô vuông màu trắng ?

**3** Số ô vuông màu xanh bằng một phần mấy số ô vuông màu trắng ?

a) 

b) 

c) 

**Phương pháp giải:**

- Đếm số ô vuông màu xanh và màu trắng.

- Lấy số ô vuông màu trắng chia cho số ô vuông màu xanh rồi trả lời câu hỏi.

**Hướng dẫn giải chi tiết:**

a) Có 1 ô vuông màu đen, 5 ô vuông màu trắng

Ta có:  $5 : 1 = 5$  (lần)

→ Vậy số ô vuông màu đen bằng  $1/5$  số ô vuông màu trắng

b) Có 2 ô vuông màu đen, 6 ô vuông màu trắng

Ta có:  $6 : 2 = 3$  (lần)

→ Vậy số ô vuông màu đen bằng  $1/3$  số ô vuông màu trắng

c) Có 2 ô vuông màu đen, 4 ô vuông màu trắng

Ta có:  $4 : 2 = 2$  (lần)

→ Vậy số ô vuông màu đen bằng  $1/2$  số ô vuông màu trắng