

Đề thi sát hạch lý thuyết lái xe ô tô - Bộ đề 03

Câu hỏi 1: Khái niệm “đường bộ” được hiểu như thế nào là đúng? Đường bộ gồm:

- Đường, cầu đường bộ.
- Hàm đường bộ, bến phà đường bộ.
- Đường, cầu đường bộ, hàm đường bộ, bến phà đường bộ và các công trình phụ trợ khác.

Câu hỏi 2: Người điều khiển xe mô tô, xe gắn máy trên đường mà trong khí thở có nồng độ cồn vượt quá bao nhiêu thì bị cấm?

- Nồng độ cồn vượt quá 0,25 miligam/1 lít khí thở.
- Nồng độ cồn vượt quá 0,20 miligam/1 lít khí thở.
- Nồng độ cồn vượt quá 0,15 miligam/1 lít khí thở.

Câu hỏi 3: Người đủ 16 tuổi được điều khiển các loại xe nào dưới đây?

- Xe mô tô 2 bánh có dung tích từ 50 cm³ trở lên.
- Xe gắn máy có dung tích từ 50 cm³ trở xuống.
- Xe ô tô tải dưới 3,5 tấn; xe chở người đến 9 chỗ ngồi.
- Tất cả các ý trên.

Câu hỏi 4: Việc sát hạch cấp giấy phép lái xe ô tô phải thực hiện ở đâu và như thế nào?

- Tại các cơ sở đào tạo lái xe.
- Tại sân tập lái của cơ sở đào tạo lái xe và phải đảm bảo công khai, minh bạch.
- Tại các trung tâm sát hạch lái xe có đủ điều kiện và phải bảo đảm công khai, minh bạch.

Câu hỏi 5: Người có giấy phép lái xe hạng FC được điều khiển các loại xe nào?

- Các loại xe được quy định tại giấy phép lái xe hạng C có kéo rơ moóc, ô tô đầu kéo kéo sơ mi rơ moóc, ô tô chở khách nối toa và được điều khiển các loại xe quy định cho giấy phép hạng B1, B2 và FB2.
- Các loại xe được quy định tại giấy phép lái xe hạng C có kéo rơ moóc, ô tô đầu kéo kéo sơ-mi rơ-moóc và được điều khiển các loại xe quy định cho giấy phép lái xe hạng B1, B2, C và FB2.

- Mô-tô hai bánh, các loại xe được quy định tại giấy phép lái xe hạng C có kéo rơ moóc, ô-tô đầu kéo kéo sơ-mi rơ-moóc và được điều khiển các loại xe quy định cho giấy phép lái xe hạng B1, B2, C và FB2.

- Tất cả các loại xe nêu trên.

Câu hỏi 6: Người có giấy phép lái xe hạng FE được điều khiển các loại xe nào?

- Các loại xe được quy định tại giấy phép lái xe hạng E có kéo rơ-moóc và được điều khiển các loại xe: ô-tô chở khách nối toa và các loại xe quy định cho giấy phép lái xe hạng B1, B2, C, D, FB2, FD.

- Các loại xe được quy định tại giấy phép lái xe hạng E có kéo rơ-moóc, đầu kéo kéo sơ-mi rơ-moóc và được điều khiển các loại xe: ô-tô chở khách nối toa và các loại xe quy định cho giấy phép lái xe hạng B1, B2, C, D, FB2, FD.

- Tất cả các loại xe nêu trên.

Câu hỏi 7: Khi điều khiển xe cơ giới, người lái xe phải bật đèn tín hiệu báo rẽ trong trường hợp nào sau đây?

- Khi cho xe chạy thẳng.
- Trước khi thay đổi làn đường.
- Sau khi thay đổi làn đường.

Câu hỏi 8: Trong các trường hợp nào sau đây, người lái xe không được vượt xe khác?

- Xe bị vượt bất ngờ tăng tốc độ.
- Xe bị vượt giảm tốc độ và nhường đường.
- Phát hiện có xe đi ngược chiều.

Câu hỏi 9: Trên đường một chiều, trước khi đến vạch người đi bộ qua đường có một xe tải đang dừng trước làn đường bên phải, người lái xe phải làm gì nếu xe của mình đang đi trên làn đường bên trái?

- Ra tín hiệu cảnh báo và vượt qua xe tải.
- Quan sát, giảm tốc độ hoặc dừng lại vì có thể có người đi bộ qua đường, sau đó đi tiếp.

- Nhanh chóng vượt qua nếu không nhìn thấy người đi bộ qua đường từ bên trái.

Câu hỏi 10: Trên đường cao tốc, trừ khi nhập làn và tách làn, với điều kiện mặt đường khô ráo, xe cơ giới đang chạy với tốc độ trên 100 km/h đến 120 km/h, người lái xe phải duy trì khoảng cách an toàn với xe đang chạy phía trước tối thiểu là bao nhiêu?

- 60 m.
- 70 m.
- 80 m.
- 90 m

Câu hỏi 11: Khái niệm “hàng nguy hiểm” được hiểu như thế nào là đúng?

- Là hàng hóa dễ gây cháy, nổ và cản vận chuyển trên đường vì có khả năng gây nguy hại cho con người, trong trường hợp đặc biệt cản vận chuyển phải có các xe chuyên dùng để bảo đảm an toàn.
- Là hàng hóa có chứa các chất nguy hiểm, khi chở trên đường có khả năng nguy hại tới tính mạng, sức khỏe con người, môi trường, an toàn và an ninh quốc gia.
- Cả ý trả lời 1 và 2.

Câu hỏi 12: Hình nào dưới đây đòi hỏi hàng phải xếp theo hướng thẳng đứng?

Hình nào dưới đây đòi hỏi hàng phải xếp theo hướng thẳng đứng?

1- Hình 1.

2- Hình 2.


3- Hình 3.



Hình 1



Hình 2



Hình 3

- Hình 1.
- Hình 2.
- Hình 3.

Câu hỏi 13: Khi xảy ra tai nạn giao thông, người lái xe và người có mặt tại hiện trường vụ tai nạn phải thực hiện các công việc gì dưới đây?

- Đặt các biển cảnh báo hoặc vật báo hiệu ở phía trước và phía sau hiện trường xảy ra tai nạn để cảnh báo; kiểm tra khả năng xảy ra hỏa hoạn do nhiên liệu bị rò rỉ.
- Bảo vệ hiện trường vụ tai nạn và cấp cứu người bị thương.

Câu hỏi 14: Khi điều khiển xe vượt qua rãnh lớn cắt ngang mặt đường, người lái xe cần thực hiện các thao tác nào?

- Giảm số một (1) và từ từ cho hai bánh xe trước xuống rãnh, tăng ga cho hai bánh xe trước vượt lên khỏi rãnh, tăng số, tăng tốc độ để bánh xe sau vượt rãnh.
- Tăng ga, tăng số để hai bánh xe trước và bánh xe sau vượt qua khỏi rãnh và chạy bình thường.
- Giảm số một (1) và từ từ cho hai bánh xe trước xuống rãnh, tăng ga cho hai bánh xe trước vượt lên khỏi rãnh, tiếp tục để bánh xe sau từ từ xuống rãnh rồi tăng dần ga cho xe ô tô lên khỏi rãnh.

Câu hỏi 15: Khi điều khiển xe qua đường sắt, người lái xe cần phải thực hiện các thao tác nào dưới đây?

- Dừng xe tạm thời khi có chuông báo hoặc thanh chắn đã hạ xuống.
- Kéo phanh tay nếu đường dốc hoặc phải chờ lâu; về số thấp, tăng ga nhẹ để tránh động cơ chết máy.

Câu hỏi 16: Khi điều khiển xe ô tô tự đổ, người lái xe cần chú ý những điểm nào?

- Khi chạy trên đường xấu, nhiều ổ gà nên chạy chậm để thùng xe không bị lắc mạnh, không gây hiện tượng lệch “ben”; khi chạy vào đường vòng cần giảm tốc độ, không lấy lái gấp và không phanh gấp.
- Khi xe chạy trên đường quốc lộ không cần hạ hết thùng xe xuống.

- Khi đỗ hàng phải chọn vị trí có nền đường cứng và phẳng, dùng hãm xe, kéo chặt tay phanh; sau đó mới điều khiển cơ cấu nâng “ben” để đỗ hàng, đỗ xong hàng mới hạ thùng xuống.

Câu hỏi 17: Để đạt được hiệu quả phanh cao nhất, người lái xe mô tô phải sử dụng kỹ năng như thế nào?

- Sử dụng phanh trước.
- Sử dụng phanh sau.
- Sử dụng đồng thời cả phanh sau và phanh trước.
- Giảm hết ga.

Câu hỏi 18: Biển nào báo hiệu nơi đỗ xe cho người tàn tật?

Biển nào báo hiệu nơi đỗ xe cho người tàn tật?



1



2



3

1- Biển 1.
3- Biển 3.

2- Biển 2.

- Đáp án 1.
- Đáp án 2.
- Đáp án 3.

Câu hỏi 19: Biển nào cấm xe tải vượt?

Biển nào cấm xe tải vượt?



1



2

- 1- Biển 1.
- 3- Không biển nào.

2- Biển 2.

- Đáp án 1.
- Đáp án 2.
- Đáp án 3.

Câu hỏi 20: Biển nào ô tô con được phép vượt?

Biển nào xe ô tô con được phép vượt?



1



2


1- Biển 2.

2- Biển 1.

- Đáp án 1.
- Đáp án 2.

Câu hỏi 21: Biển nào báo hiệu đường đôi?

Biển nào báo hiệu đường đôi?



1



2



3

1 - Biển 1.

2 - Biển 2.

3 - Biển 3.

- Đáp án 1.
- Đáp án 2.
- Đáp án 3.

Câu hỏi 22: Biển nào báo hiệu đường đôi?

Biển nào báo hiệu đường đôi?



1



2



3

- 1 - Biển 1.
- 2 - Biển 2.
- 3 - Biển 3.

- Đáp án 1.
- Đáp án 2.
- Đáp án 3.

Câu hỏi 23: Biển nào báo hiệu hết đường đôi?

Biển nào báo hiệu hết đường đôi?



1



2



3

- 1- Biển 2.
- 3- Biển 3.

- 2- Biển 1.

- Đáp án 1.

- Đáp án 2.

- Đáp án 3.

Câu hỏi 24: Biển nào báo hiệu hết đường cao tốc?

Biển nào báo hiệu hết đường cao tốc?



1

1- Biển 1.
3- Biển 3.



2

2- Biển 2.



3

- Đáp án 1.

- Đáp án 2.

- Đáp án 3.

Câu hỏi 25: Trong tình huống dưới đây, để tránh xe trước bị hỏng đột ngột trên đường, người lái xe phải làm gì?

Trong tình huống dưới đây, để tránh xe phía trước bị hỏng đột xuất trên đường, người lái xe phải làm gì?

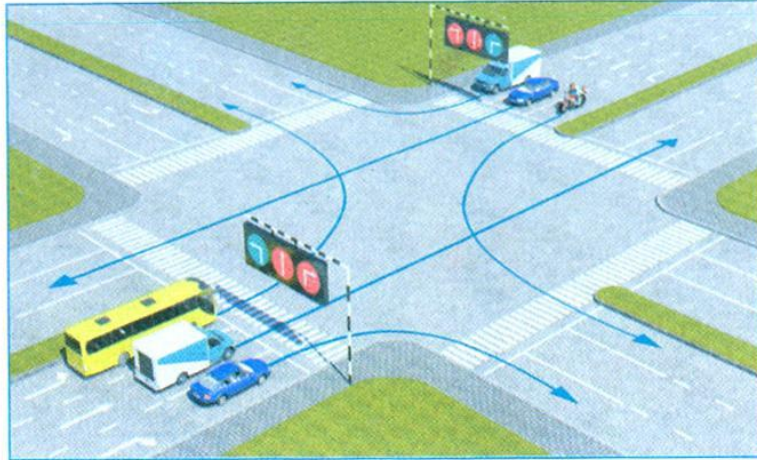


- 1- Đánh lái sang trái cho xe vượt qua.
- 2- Quan sát phía trước, phía sau, khi đủ điều kiện an toàn, bật tín hiệu bằng đèn hoặc còi rồi cho xe chạy vượt qua.
- 3- Cấm vượt.

- Đáp án 1.
- Đáp án 2.
- Đáp án 3.

Câu hỏi 26: Các xe đi theo hướng mũi tên, xe nào chấp hành đúng quy tắc giao thông?

Các xe đi theo hướng mũi tên, xe nào chấp hành đúng quy tắc giao thông?



1- Xe tải, mô tô.

2- Xe khách, mô tô.

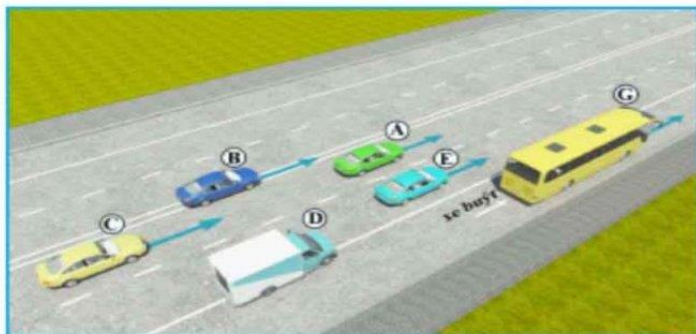
3- Xe tải, xe con.

4- Mô tô, xe con.

- Đáp án 1.
- Đáp án 2.
- Đáp án 3.
- Đáp án 4.

Câu hỏi 27: Trong hình dưới, những xe nào vi phạm quy tắc giao thông?

Trong hình dưới, những xe nào vi phạm quy tắc giao thông?



- 1- Xe con (A), xe con (B), xe tải (D).
- 2- Xe tải (D), xe con (E), xe buýt (G).
- 3- Xe tải (D), xe con (B).
- 4- Xe con (B), xe con (C).

- Đáp án 1.
- Đáp án 2.
- Đáp án 3.
- Đáp án 4.

Câu hỏi 28: Các xe đi theo thứ tự nào là đúng quy tắc giao thông?

Các xe đi theo thứ tự nào là đúng quy tắc giao thông đường bộ ?



- 1- Xe của bạn, mô tô, xe con.
- 2- Xe con, xe của bạn, mô tô.
- 3- Mô tô, xe con, xe của bạn.

- Đáp án 1.

• Đáp án 2.

• Đáp án 3.

Câu hỏi 29: Các xe đi theo thứ tự nào là đúng quy tắc giao thông?

Các xe đi theo thứ tự nào là đúng quy tắc giao thông đường bộ?



- 1- Xe của bạn, mô tô, xe con.
- 2- Xe con, xe của bạn, mô tô.
- 3- Mô tô, xe con, xe của bạn.

• Đáp án 1.

• Đáp án 2.

• Đáp án 3.

Câu hỏi 30: Xe nào phải dừng lại trong trường hợp này?

Xe nào phải dừng lại trong trường hợp này ?



1- Xe con.
3- Cả hai xe.

2- Xe của bạn.

- Đáp án 1.
- Đáp án 2.
- Đáp án 3.